

LES REPÈRES SPATIAUX.




TP : SE REPERER DANS L'ESPACE.

📖 Se repérer sur Terre est indispensable pour les navigateurs et les aviateurs... Mais c'est également utile pour un élève : en Histoire-Géographie bien sûr, mais aussi en SVT ou en EPS (course d'orientation...).

☐ Je repère le Nord :

- Sur une carte ou un plan, je recherche la flèche qui indique le Nord (s'il n'y en a pas, le Nord, par convention, est situé vers le haut de la carte).
- Sur le terrain, je peux utiliser une boussole dont l'aiguille aimantée s'oriente vers le Nord.

☐ Je repère les autres directions :



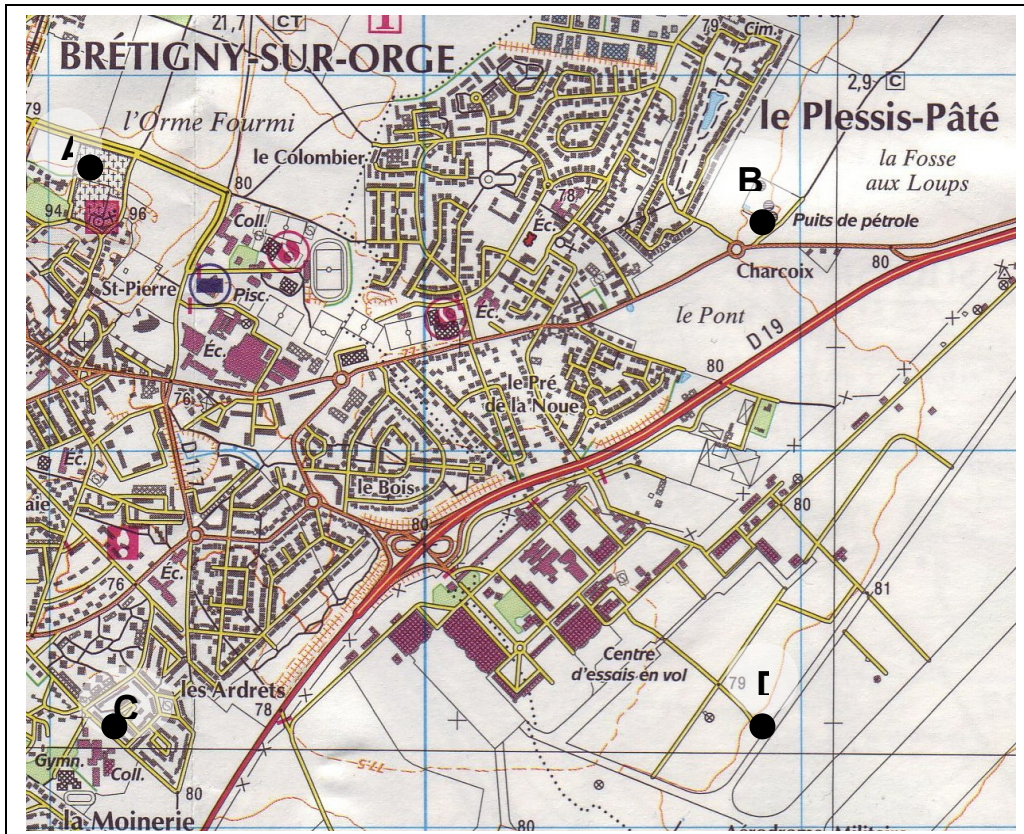
☺ Quand le Nord est en haut (ou devant) :

- l'Est est à droite :

(Pour retenir, facile avec les flèches !)

- l'Ouest est à gauche
- le Sud est en bas (ou derrière).

☐ Je repère un point par rapport à un autre point :



- Où se situe le nord sur cette carte ?
- Du point A au point C, je me déplace vers
- Du point A vers B, je vais vers
- Du point D au point B, je me déplace vers
- Le point C est du point A.
- Le point C est du point D.
- Le point C est du point B.

Remarque : l'orthographe doit être exacte. Attention aux majuscules.

LES REPERES DU MONDE.

● **Les grands repères terrestres :**

Les parallèles (ou lignes remarquables) :	Cercle polaire Arctique
	Tropique du Cancer
	Equateur
	Tropique du Capricorne
	Cercle polaire Antarctique

Zones climatiques :	Zones chaudes
	Zones tempérées
	Zones froides

Les continents :	Afrique
	Amérique
	Asie
	Europe
	Océanie
	Antarctique

Les océans :	Océan Atlantique
	Océan Indien
	Océan Pacifique
	Océan Glacial Arctique
	Océan Glacial Antarctique

Grandes chaînes de montagnes :	Himalaya
	Andes
	Rocheuses
	Alpes

Forêts denses :	Amazonie
	Afrique centrale

Les grands fleuves :	Nil
	Congo
	Gange
	Chang Jiang (ou Yangzi)
	Amazone
	Mississippi

Désert du Sahara
Isthme de Suez
Isthme de Panama
Détroit de Gibraltar

● **Population :**

Les grands foyers de population dans le monde :	Asie du Sud (Inde...)
	Asie de l'Est (Chine...)
	Asie du Sud-Est
	Europe
	Nord-est des Etats-Unis
	Golfe de Guinée
	Vallée du Nil
Sud-Est du Brésil	

Les mégapoles :	La mégalopole américaine (de Boston à Washington).
	La mégalopole japonaise (de Tokyo à Osaka)
	La mégalopole européenne (de Londres à Gènes).

Des villes ou mégapoles :	Pékin (Beijing)
	Shanghaï
	Bombay (Mumbaï)
	Calcutta
	Tokyo
	New York
	Los Angeles
	Sao Paulo (ne pas confondre avec Rio de Janeiro !).
	Mexico
	Le Caire

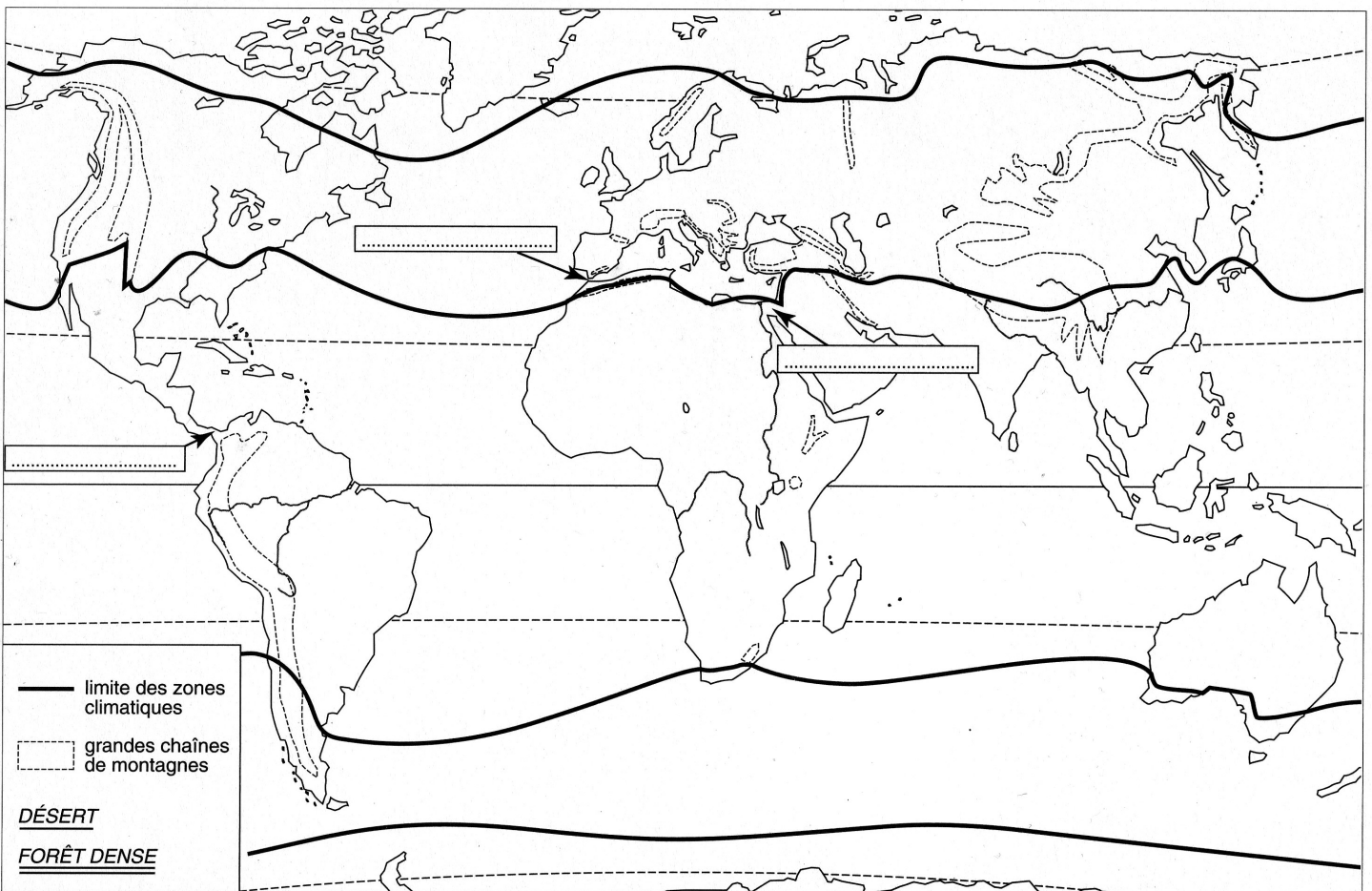
● **Les Etats suivants :**

Etats du Maghreb

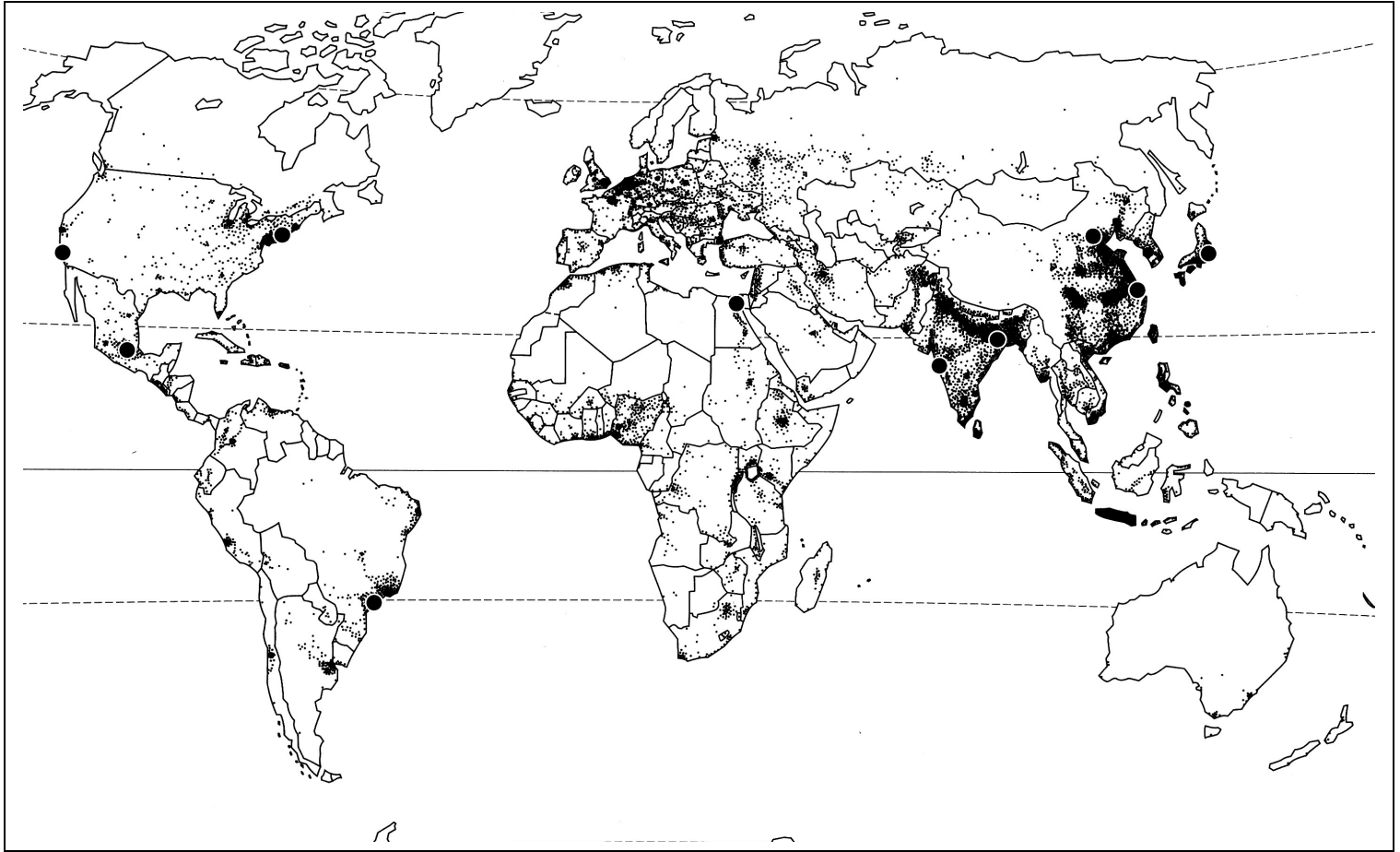
Etats d'Asie

ALENA

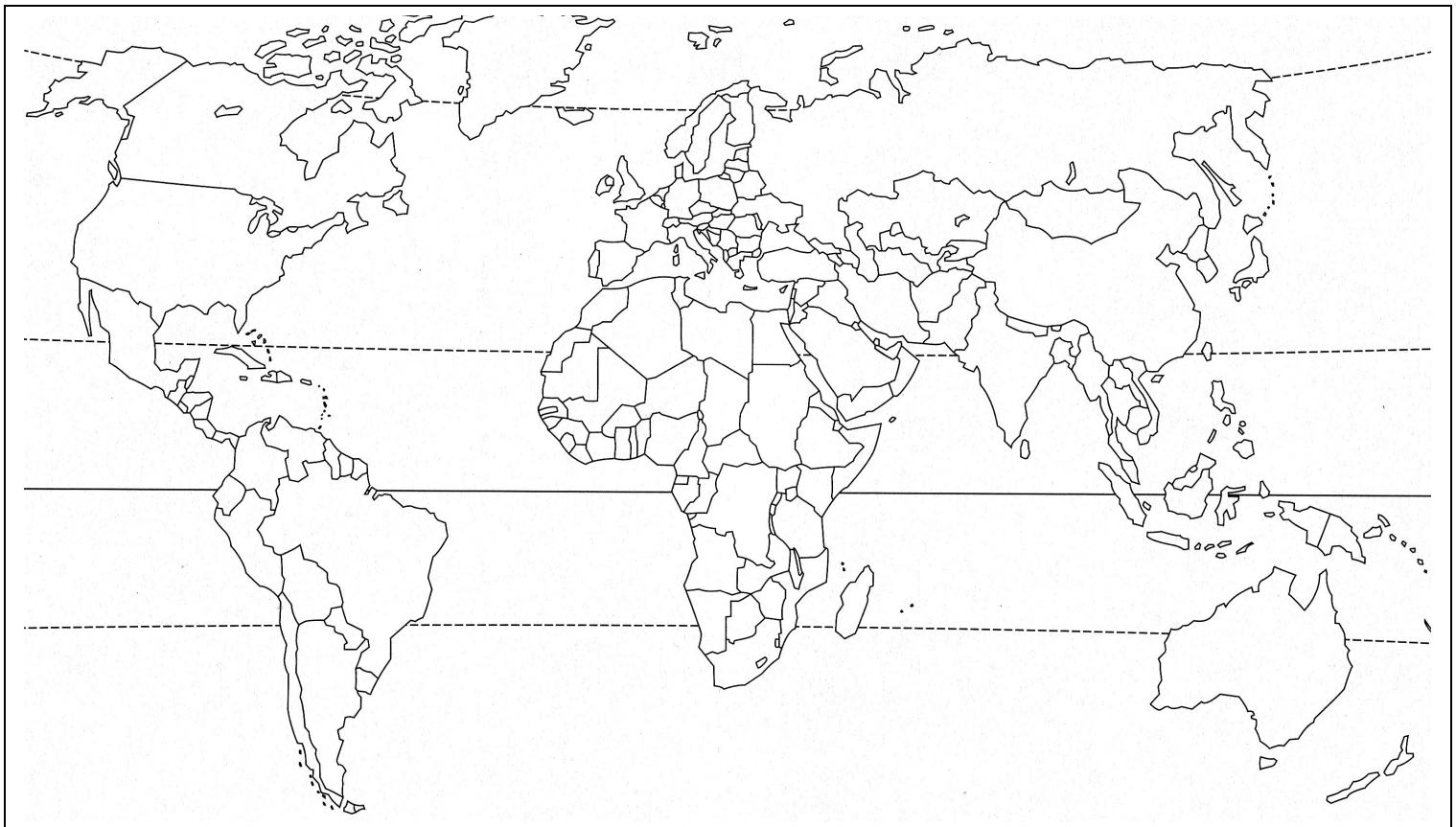
Maroc	Inde (ou Union indienne)	Canada	Brésil
Algérie	Chine	Etats-Unis	
Tunisie	Japon	Mexique	Egypte



1. Placer les noms des grands parallèles.
2. Placer les noms des continents, des océans, des isthmes de Suez, de Panama, le détroit de Gibraltar.
3. Placer à droite de la carte les mots : zone chaude, zone tempérée, zone froide (on peut mettre plusieurs fois certains noms).
4. Colorier les chaînes de montagnes et placer les noms : Himalaya, Andes, Rocheuses, Alpes, Oural.
5. Repasser les fleuves en bleu et indiquer leur noms.
6. Écrire le nom des forêts denses : Amazonie, Afrique centrale et d'un désert : le Sahara. Souligner le désert d'un trait, les forêts de deux traits.



- ✎ Entourer en vert les grands foyers de peuplement et les nommer.
- Localiser et nommer en majuscules noires le noms des grandes villes du monde.
- Individualiser en entourant en rouge les 3 mégalo-poles du monde.
- Sur la carte ci-dessous, localiser les Etats à retenir.



LES REPERES DE L'EUROPE.

• **Les grands repères de base.**

Mers :	Mer Baltique
	Mer du Nord
	Océan Atlantique
	Mer Méditerranée
	Mer Noire

Grands fleuves :	Rhin
	Danube
	Volga
Montagnes :	Alpes

• **Tous les Etats d'Europe (savoir les nommer et les localiser précisément).**

Albanie	Estonie	Macédoine	Russie
Allemagne	Finlande	Malte	Serbie
Autriche	France	Moldavie	Slovaquie
Belgique	Grèce	Monténégro	Slovénie
Biélorussie	Hongrie	Norvège	Suède
Bosnie-Herzégovine	Irlande	Pays-Bas	Suisse
Bulgarie	Islande	Pologne	Turquie
Chypre	Italie	Portugal	Ukraine
Croatie	Lettonie	République tchèque	
Danemark	Lituanie	Roumanie	
Espagne	Luxembourg	Royaume-Uni	

• **Les Etats de l'Union Européenne (UE des 27) et leur capitale respective.**

Il faut savoir les nommer et les localiser ainsi que leur capitale respective. Vous devez être capable également de délimiter les frontières extérieures de l'UE (en n'oubliant pas que la Suisse n'en est pas membre).

<u>Etats</u>	<u>Capitales</u>
Allemagne	Berlin
Autriche	Vienne
Belgique	Bruxelles
Bulgarie	Sofia
Chypre	Nicosie
Danemark	Copenhague
Espagne	Madrid
Estonie	Tallinn
Finlande	Helsinki
France	Paris
Grèce	Athènes
Hongrie	Budapest
Irlande	Dublin
Italie	Rome

<u>Etats</u>	<u>Capitales</u>
Lettonie	Riga
Lituanie	Vilnius
Luxembourg	Luxembourg
Malte	La Valette
Pays-Bas	Amsterdam
Pologne	Varsovie
Portugal	Lisbonne
République tchèque	Prague
Roumanie	Bucarest
Royaume-Uni	Londres
Slovaquie	Bratislava
Slovénie	Ljubljana
Suède	Stockholm

• **Les capitales de l'Union européenne :**

Bruxelles
Luxembourg
Strasbourg

• **La mégalopole européenne :**

de Londres au nord de l'Italie en passant par la vallée du Rhin.





- ❶ Localiser en bleu les mers et océans. Nomme également les fleuves en repassant dessus.
- ❷ Localiser et nommer en noir les États membres de l'Union Européenne et leur capitale en rouge. Construire un système de renvoi avec des numéros (1,2...) pour les petits États. **La carte doit être lisible.**
- ❸ Placer les capitales de l'UE et entourez en rouge la mégapole européenne.
- ❹ Colorier en jaune les États membres de l'UE (n'oubliez pas la légende).
- ❺ Enfin, nommer en vert les autres États du continent européen (qui ne sont pas membres de l'UE).

LES REPERES DE LA FRANCE.

Fleuves :	Garonne
	Loire
	Rhône
	Rhin
	Seine

Montagnes :	Vosges
	Jura
	Alpes
	Massif central
	Pyénées

Grandes agglomérations :	Lille
	Metz
	Nancy
	Strasbourg
	Lyon
	Nice
	Marseille
	Toulouse
	Bordeaux
	Clermont-Ferrand
	Nantes
	Rennes
	Paris
	Rouen

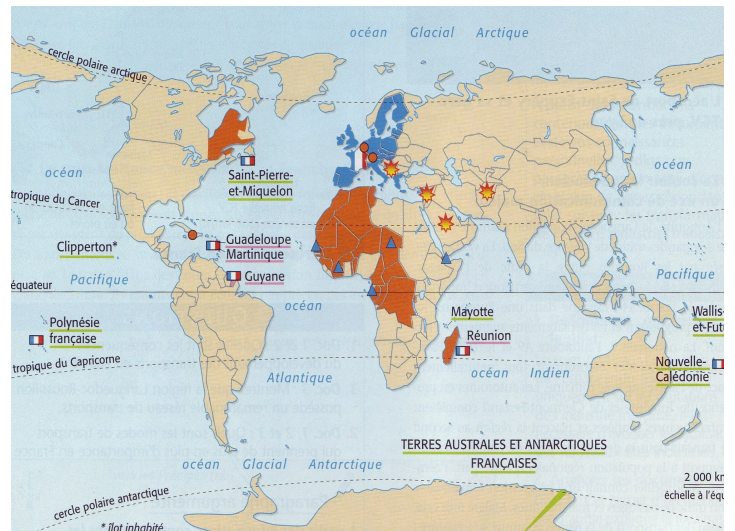
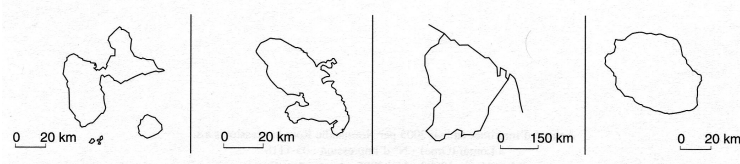
Les Régions Administratives :	Nord-Pas-de-Calais
	Picardie
	Haute-Normandie
	Ile-de-France
	Champagne-Ardennes
	Lorraine
	Alsace
	Franche-Comté
	Bourgogne
	Centre
	Basse-Normandie
	Bretagne
	Pays de la Loire
	Poitou-Charentes
	Limousin
	Auvergne
Rhône-Alpes	
Provence-Alpes-Côte d'Azur	
Corse	
Languedoc-Roussillon	
Midi-Pyrénées	
Aquitaine	

Les DROM :	Guadeloupe
	Martinique
	Guyane
	Réunion

Les TOM :	Nouvelle-Calédonie
	Wallis-et-Futuna
	Polynésie française
	Clipperton
	Saint-Pierre et Miquelon
	Mayotte
	Terre-Adélie Terres Australes et Antarctiques françaises



Départements français d'Outre-mer



<p>Le territoire français</p> <ul style="list-style-type: none"> territoire français métropolitain Union européenne DOM (département d'outre-mer) TOM (territoire d'outre-mer) et collectivités territoriales 	<p>La francophonie</p> <ul style="list-style-type: none"> États où une partie ou la totalité de la population parle le français 	<p>Les principaux lieux de présence de l'armée française</p> <ul style="list-style-type: none"> dans les DOM-TOM dans les États liés par des accords de coopération dans le cadre d'opérations internationales (souvent sous le commandement de l'ONU)
---	--	---

